

平成22年度 入学試験問題

社 会

九州国際大学附属中学校

【注意事項】

- 1 開始合図のチャイムが鳴るまで、この問題用紙の中を見てはいけません。
- 2 開始合図のチャイムが鳴ったら、最初に解答用紙と問題用紙に受験番号・氏名を書きなさい。
- 3 試験時間は40分です。
- 4 解答はすべて、指示にしたがって解答用紙に記入しなさい。
- 5 問題用紙で、印刷がはっきりしないところがあったら、静かに手をあげなさい。
- 6 答案ができあがっても、終了合図のチャイムが鳴るまで静かに着席していなさい。

受験番号		氏名	
------	--	----	--

1 次の問題は、北九州市の公害と環境に関する問題です。

九州国際大学附属中学校がある北九州市は、かつて①公害の被害を受けたまちでした。1960年ごろの北九州市の空は、工場から出る煙に覆われていました。当時の人々は、この煙を『七色のけむり』と呼び、日本の経済発展の象徴としていました。しかし、周りを多くの工場に囲まれた城山小学校では、1966（昭和41）年には、全校の子どもたち740人のうち、459人がのどや鼻の病気に苦しむという状況になりました。そしてこの学校があった地域は、ばいじんのふる量が日本一を続けたため、1977年に学校は閉じられることとなったのです。

また、九州国際大学附属中学校の食堂から見渡すことのできる〔あ〕湾も、海岸に立ち並ぶ工場から、有害な排水が流され続けたため、1960年ころには海は魚が住めないほど汚れてしまったのです。

②このような状況に対し、1950年に女性グループが中心となって北九州市から公害をなくす運動を始め、その運動の輪は、次第に市民の間にも広がっていきました。その結果、工場では地域の環境を守り、住民の健康や安全を守ることに努めるようになり、また市も大気のを汚れるを観測する施設や公害を防ぐきまりをつくり、工場が守るように指導しました。

このように北九州市では、市民や行政、企業が一体となって公害をなくす努力を重ねた結果、次第に大気の様子もよくなり1987年には環境庁から「夜空の街」に選ばれ、〔あ〕湾にも魚が住めるようになりました。

また、北九州市では、1997年に「北九州エコタウン事業」と名づけたまちづくり事業を始め、世界から注目される③環境首都を目指しています。

問1 空欄〔あ〕に入る適当な湾の名前を次のア～エから1つ選び記号で答えなさい。

ア 博多 イ 大村 ウ 洞海 エ 駿河

問2 下線部①について、次の文は、四大公害病のうちのある公害病裁判について述べたものです。その公害病とは何か、答えなさい。

熊本県のある湾の沿岸に住む患者と家族が、病気の原因は、化学工場の排水の水銀であるとしてうったえた。1973年3月、裁判所は会社の責任をみとめ、ばいしゅう金をはらうように命じた。

問3 下線部②について、このような北九州市の公害克服の歴史や地球温暖化、^{こくぶく}廃棄物問題、^{はいきぶつ}廃棄物問題などを学習することができる八幡東区にある下の写真の施設を何といいますか。

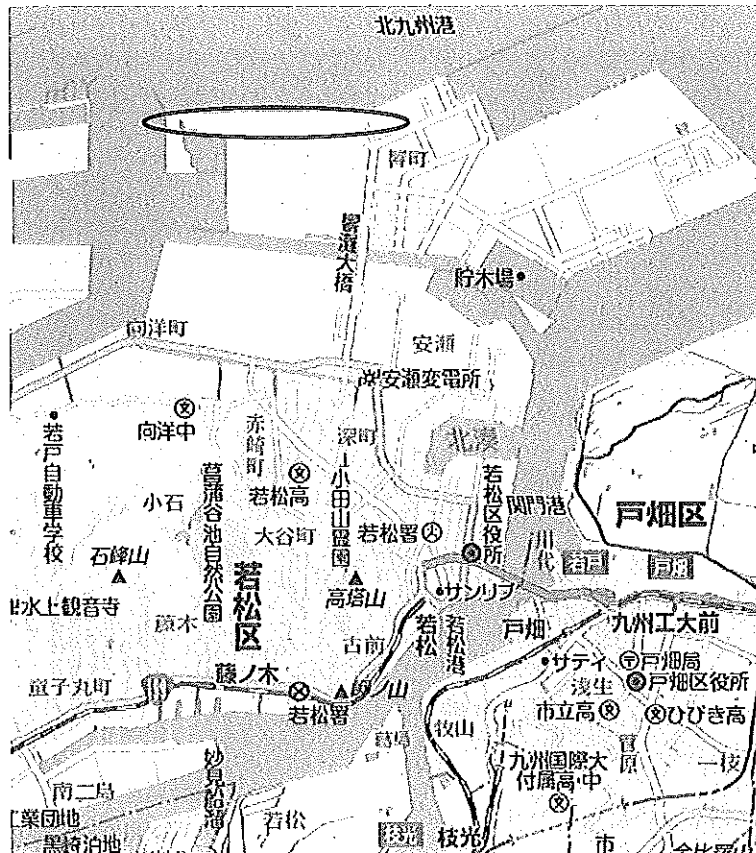
次のア～エから一つ選び記号で答えなさい。

- ア いのちのたび博物館 イ 北九州イノベーションギャラリー
ウ 環境ミュージアム エ 北九州市エコタウンセンター



問4 下線部③に関して、北九州市の若松区の沿岸部（次の地図の円で囲んだ部分）では環境に優しい発電を行なっています。この発電として正しいものを次のア～エから一つ選び記号で答えなさい。

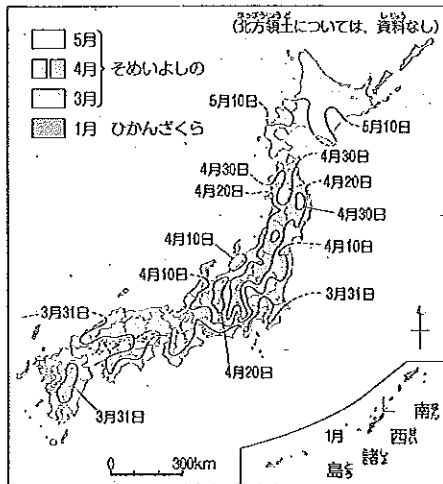
- ア 風力発電 イ 火力発電 ウ 原子力発電 エ 水力発電



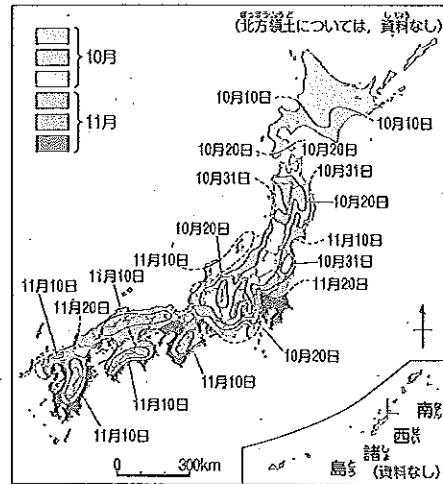
2 次の問題は、日本と世界の気候に関する問題です。

(1) 日本の気候に関する次の文章を読み、問いに答えなさい。

問1 次の地図は、「桜がさく時期」と「かえでやもみじが紅葉する時期」を示したものです。この二つの地図から、日本ではどのように季節が変化しますか。解答欄の言葉に続けて説明しなさい。



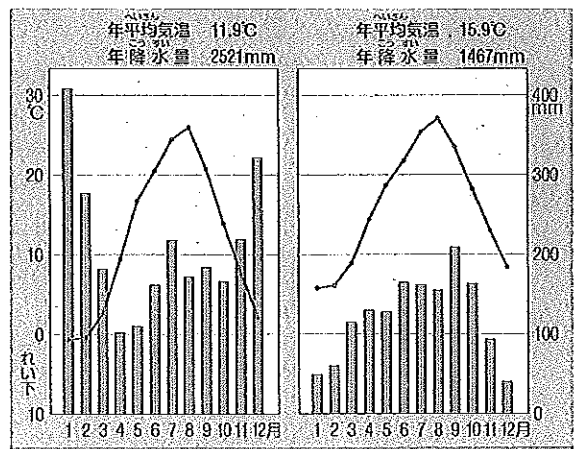
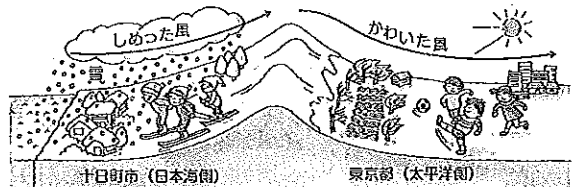
〇〇① 桜がさく時期(気象庁)



〇〇② かえでやもみじが紅葉する時期(気象庁)

問2 次の資料を利用して、十日町市と東京都の冬の気候を説明したとき、その説明として適当でないものをア～エから2つ選び記号で答えなさい。

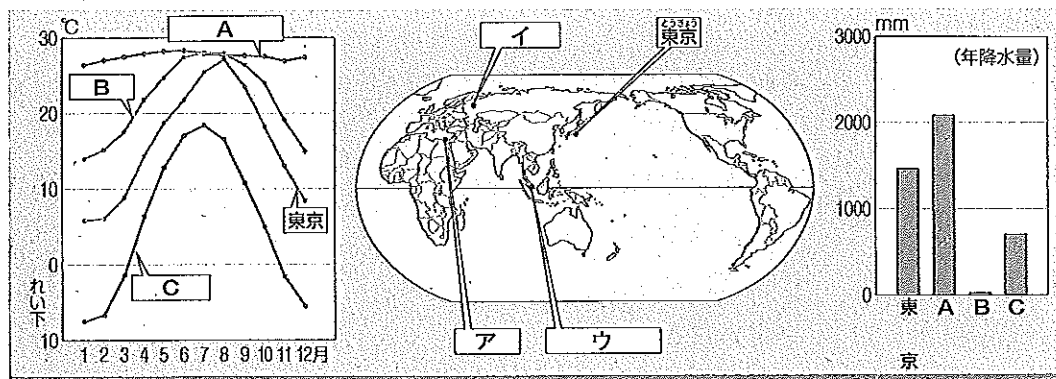
- ア 東京都と比べ、十日町市の冬の降水量が高いのは、この時期、十日町市にたくさんの雪がふるからである。
- イ 十日町市と比べ、東京都の冬の降水量が低いのは、乾燥した空気が太平洋側から吹いてくるからである。
- ウ 冬の降水量が十日町市と東京都でちがうのは、本州の中央につらなる山地と北西の季節風の影響を受けるからである。
- エ 東京都の空気が冬に乾燥するのは、太平洋から日本海に向かって吹く季節風の影響を受けるからである。



〇〇③ 冬の季節風のはたらきと、新潟県十日町市(左)と東京都(右)の気温・降水量(気象庁ほか)

(2) 世界の気候に関する問いに答えなさい。

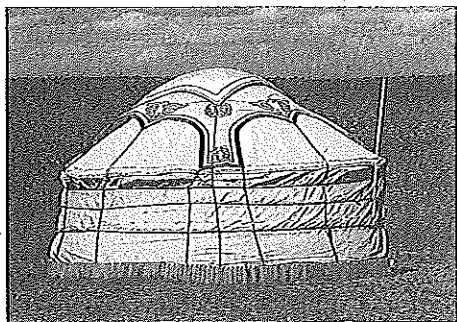
問1 次の気温と降水量を表したグラフ中のA～Cは、地図中のア～ウの都市のものを示しています。地図中のアの都市の気温と降水量のグラフは、A～Cのどれにあたりますか、記号で答えなさい。



〇〇④ 外国の都市の気温や降水量と比べて(気象庁)


問2 問1の降水量と気温のグラフ中のAの都市と同じ気候である地域に見られる家のつくりはどのようなものですか。下の写真ア～ウから1つ選び記号で答えなさい。また、それを選んだ理由も説明しなさい。

ア



〇〇④ テントの家

イ



〇〇④ 土づくりの家

ウ



〇〇④ 床の高い家

3

次の問題は日本の歴史に関する問題です。下の年表を見て次の問いに答えなさい。

縄文時代	縄文土器や石器を使う・・・①
弥生時代	弥生土器・鉄器・青銅器を使う・・・②
3～4世紀	各地の豪族が古墳を作る・・・③
4世紀ごろ	大和朝廷が国土の統一を進める
604年	聖徳太子が政治の改革を行う・・・④
645年	大化の改新・・・⑤
710年	平城京に都を定める
794年	平安京に都を定める
1016年	藤原道長が摂政になる・・・⑥
1192年	鎌倉幕府を開く・・・⑦
1338年	室町幕府を開く
1467年	応仁の乱
1543年	鉄砲が伝わる
1590年	豊臣秀吉が全国を統一する・・・⑧
1603年	徳川家康が江戸幕府を開く
1853年	ペリーがやってくる・・・⑨
1868年	明治維新
1889年	大日本帝国憲法が發布される・・・⑩
1894年	日清戦争がおこる・・・⑪
1904年	日露戦争がおこる
1941年	アジア・太平洋に戦争を広げる・・・⑫
1945年	連合国に降伏する・・・⑬
1946年	日本国憲法が公布される

(1) 次の問いに答えなさい。

問1 ①について、この時代に食べ物を手に入れる方法を1つ答えなさい。

問2 ②について、この時代のことについて述べた次のア～エの文章のうち、ふさわしいものを1つ選び、記号で答えなさい。

ア 福岡県の板付遺跡からは2300年前の水田のあとが見つかった。

イ 土器の表面には縄目のもようがつけられていた。

ウ 米づくりが始まり人々は平等な社会で暮らした。

エ 佐賀県の吉野ヶ里遺跡からは有力者の古墳が発見された。

問3 ③について、大和地方にいた豪族たちは連合して大和朝廷をつくりました。この大和朝廷の中で中心となった人物はのちに天皇と呼ばれるようになります。こののちに天皇と呼ばれる人物のことを何といいますか。

問4 ④について、聖徳太子が政治の改革をおこなう時に協力した豪族はだれですか。その人物の名前を答えなさい。

問5 ⑤について、この改新の中心人物となった皇子の名前を答えなさい。

問6 ⑥について、このころの朝廷では藤原道長が政治を行っていました。下の文章は藤原道長がよんだうたです。このうたをよんだ時の藤原道長の気持ちを答えなさい。

「この世をば わが世とぞ思う もち月の 欠けたることも なしと思えば」

問7 ⑦について、この時代のことについて述べた次のア～エの文章のうち、ふさわしいものを1つ選び、記号で答えなさい。

ア 平氏との戦いに勝った源頼朝は天皇中心の政治を行った。

イ 北条時宗が政治を行っている時に中国の唐が攻めてきた。

ウ 源氏の将軍が3代でとだえると摂政という役についていた北条氏が政治を進めた。


エ 源頼朝は有力な御家人を守護や地頭に任命した。

問8 ⑧について、豊臣秀吉は全国の田畑の面積を測り記録しました。これを何といいますか。

問9 ㉑について、下の写真Aはペリーの写真です。図Bは当時の日本人が描いたペリーです。写真Aのペリーが図Bのように描かれているのはなぜですか。あなたの考えを答えなさい。



写真A

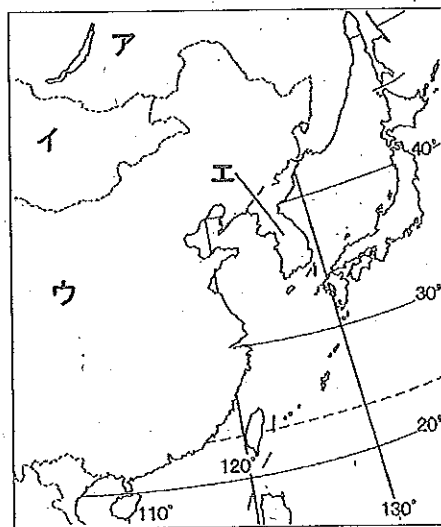


図B

問10 ㉒について、この憲法を作るときに主に参考にしたヨーロッパの国の名前を次のア～エから一つ選び、記号で答えなさい。

- ア フランス イ ドイツ ウ イギリス エ アメリカ

問11 ㉓について、この戦争は日本と清の間で行われた戦争です。この清という国の場所を下の地図のア～エから一つ選び、記号で答えなさい。



問12 ㉒について、1941年12月8日に日本はアメリカの基地を攻撃して太平洋戦争が始まりました。このアメリカの基地があった湾の名前を答えなさい。

問13 ㉓について、この時期のことについて述べた次のア～エの文章のうち、適当でないものを一つ選び、記号で答えなさい。

ア 沖縄にはたくさんのソ連軍が上陸し激しい戦いが行われ、多くの人々が犠牲になった。


イ 1945年の5月にはドイツがアメリカ・イギリスなどの連合軍に降伏した。

ウ 1945年の8月には広島と長崎に原子爆弾が投下された。

エ 満州や樺太南部にはソ連軍がせめこみ多くの日本人が犠牲になり、8月15日、昭和天皇がラジオで日本の降伏を伝えた。

(2) A～Dの写真について、説明文を読んで問いに答えなさい。

問1 写真Aは、平安時代に貴族が住んでいた屋敷です。このような屋敷の名前を答えなさい。



写真A

問2 写真Bは、下の文章の演説をした人物です。この人物の名前を答えなさい。

「今はなき頼朝どのが平氏をほろぼして幕府を開いてから、あなたたちにあたえたご恩は、山よりも高く、海よりも深いものである。その恩に報いようと思う者は、力を合わせて敵軍に勝ち、幕府を守りましょう。」



写真B

問3 写真Cは、江戸時代にある人物によって描かれたものです。この絵を描いた人物の名前を答えなさい。


また写真Cの下のア～エの文章は、この絵に関して説明したものです。適当でないものを一つ選んで、記号で答えなさい。



写真C

- ア この絵は現代の写真入り名所案内のようなものだった。
- イ オランダの画家ゴッホはこの絵の構図などをまねた絵を描いている。
- ウ この東海道五十三次という絵は当時の人々の人気を集めた。
- エ このような絵を浮世絵といい、手書きで大量に作られていた。

問4 写真Dは、明治時代に憲法を作った人物です。この人物の名前を答えなさい。



写真D

4 次の問題は、日本国憲法に関する問題です。

第1条 ①天皇は、日本国の（あ）であり、日本国民統合の（あ）であって、この地位は、主権をもつ日本国民の総意にもとづく。

第9条 日本国民は、正義と秩序にたつ国際平和を心から願って、戦争や武力を用いることは、国々との間の争いを解決する手段としては、永久にこれを放棄する。

第11条 国民は、すべての生まれながらにもっている②基本的人権をおかされない。この憲法が保障する基本的人権は、おかしことのできない永久の権利として、現在および将来の国民にあたえられる。

(1) 第1条について、次の問いに答えなさい。

問1 下線部①に関して、次のア～エのうち天皇の仕事として誤っているものを1つ選び記号で答えなさい。

- | | |
|------------|-------------|
| ア 国家予算の審議 | イ 内閣総理大臣の任命 |
| ウ 法律や条約の公布 | エ 国会の召集 |

問2 （あ）に当てはまる語句を答えなさい。

(2) 第9条について、次の文は日本がかかげている非核三原則です。空らん^{（ ）}に当てはまる語句を答えなさい。

「核兵器を（ ）ない、（ ）ない、（ ）ない」

(3) 第11条について、次の問いに答えなさい。

問1 下線部②の1つとして、選挙権があげられます。昨年8月30日には「総選挙」とよばれる選挙が行われました。これは何を決める選挙だったか、正しいものを次のア～エから1つ選び記号で答えなさい。

- | | |
|-------------|---------------|
| ア 全国の都道府県知事 | イ 衆議院議員と参議院議員 |
| ウ 衆議院議員 | エ 参議院議員 |

問2 問1の選挙の結果、内閣総理大臣が新たに任命されました。新しく内閣総理大臣に就任した人物の名前を答えなさい。

問3 下線部②にしたがって、1994年に日本は子どもの権利条約を承認しました。国連では、病気や飢えに苦しむ世界の子どもたちを守るために国連児童基金が設置されています。この国連児童基金の名称として正しいものを次のア～エから1つ選び記号で答えなさい。

- | | | | |
|----------|-------|------|----------|
| ア UNICEF | イ WHO | ウ EU | エ UNESCO |
|----------|-------|------|----------|

問4 裁判を受ける権利も国民全てにあたえられています。昨年5月に裁判員制度が始まりました。次のア～エのうち、裁判員制度の良い点を述べた文として適当でないものを1つ選び記号で答えなさい。

ア 裁判が、国民に分かりやすくなり、また迅速^{じんそく}に行なわれるようになる。

イ 裁判の進め方に国民の感覚^{かんかく}が取り入れられるので、裁判に対する国民の理解が深まる。

ウ いろいろな職業の人が裁判に参加することで、より納得^{なっとく}のいく裁判になる。

エ 一般の人が量刑^{りょうけい}も行なうので、死刑や無期懲役^{ちようえき}といった重刑が廃止となる。