

平成21年度 入学試験問題

社 会

九州国際大学附属中学校

【注意事項】

- 1 開始合図のチャイムが鳴るまで、この問題用紙の中を見てはいけません。
- 2 開始合図のチャイムが鳴ったら、最初に解答用紙と問題用紙に受験番号・氏名を書きなさい。
- 3 試験時間は40分です。
- 4 解答はすべて、指示にしたがって解答用紙に記入しなさい。
- 5 問題用紙で、印刷がはっきりしないところがあったら、静かに手をあげなさい。
- 6 答案ができあがっても、終了合図のチャイムが鳴るまで静かに着席していなさい。

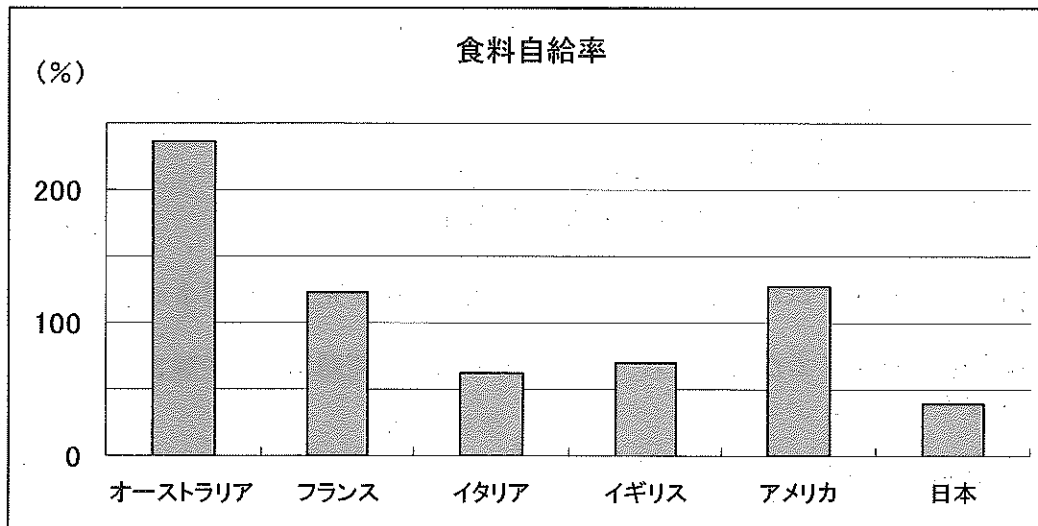
受験番号		氏名	
------	--	----	--

1 次の問題は、日本の生産に関する問題です。

(1) 日本の食料生産に関する問題に答えなさい。

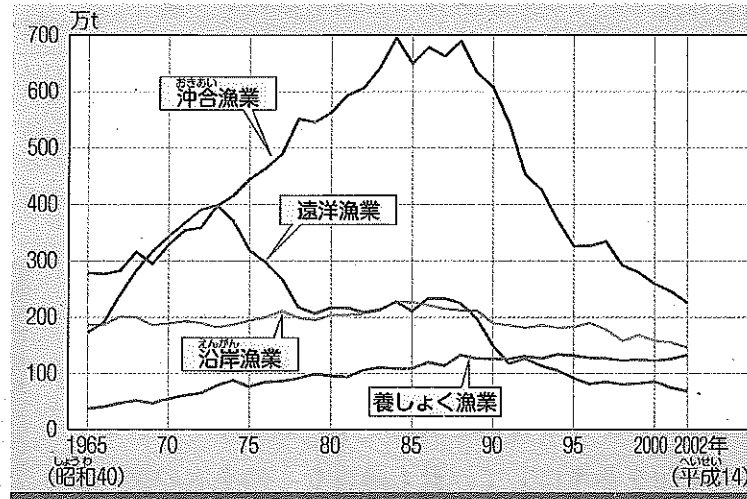
近年の日本では、中国で生産された冷凍餃子による薬物中毒事件、食品の産地偽装、食品の値段の上昇など「食」に関する問題が多く見られます。これらの問題から現在の日本の「食」が外国からの輸入に頼っていることを再認識するようになりました。

問1 下のグラフは、世界の主な国々の食料自給率を示したものです。日本の食料自給率は約何%ですか。



(2003年 農林水産省)

問2 下のグラフは漁業別の生産量の変化を示したものです。このグラフをよく見ると遠洋漁業の生産量が70年代ごろから低下したことが分かります。その理由として明らかに適当でないと考えられるものを、次のア～エから1つ選び記号で答えなさい。



●●①漁業別の生産量の変化 (農林水産省)

- ア 世界各国は、海岸から200海里 (約370km) の範囲で、外国の漁船がとる魚の種類や漁を制限するようになったから。
- イ 漁業で働く人の数が減り、また働く人の高齢化が進んだから。
- ウ 日本人の食生活が変化して、あまり魚を食べなくなったから。
- エ 遠洋漁業でとっていた魚は、遺伝子組み換えの技術の発達によって、工場で大量生産できるようになったから。

問3 なぜ、日本は北方領土を自国の領土であると主張するのでしょうか。漁業との関係から説明しなさい。なおその際、「200海里」という言葉を必ず用いること。

(2) 次の問題は、工業に関する問題です。


問1 日本は鉄鉱石を輸入に頼っています。右の表は、日本が鉄鉱石を輸入している相手国の上位5カ国を示したものです。1位の国Xはどの国か次のア～エから1つ選び記号で答えなさい。

順位	相手国	万トン
1位	X	12227
2位	ブラジル	8083
3位	インド	1945
4位	カナダ	1362
5位	南アフリカ	1193

- ア アメリカ イ 中国
ウ オーストラリア エ ロシア

問2 右の写真は、『くろがね線』という愛称をもつ鉄道です。

この鉄道は、九州国際大学附属中学校への通学路からも見ることができ、学校付近のトンネルの中を通っています。この鉄道はどのような役割を果たしていると考えられますか。下の地図を参考にして、最も適当なものを次のア～エから1つ選び記号で答えなさい。



- ア スペースワールドなど、北九州市に来た観光客を運ぶため。
イ JR鹿児島本線から離れたところに住む住民の交通のため。
ウ 工場で作られた加工品や資材などを運ぶため。
エ 工場で作られた新型列車の試運転のため。



2 次の問題は、わたしたちの生活に関わる情報についての問題です。

(1) 次のA～Eの文は、ニュース番組をつくる作業について書いたものです。解答らんにしたがって、つくる順番に並べかえなさい。

- A ニュースの順番を決めて、番組表をつくる。
- B そのまま生放送したり、録画したビデオを放送したりする。
- C アナウンサー・カメラマン・解説者・進行係など、役割分担を決める。
- D 番組表にしたがって番組を進め、ビデオカメラでさつえいする。
- E 写真や図、実物など、必要な資料を用意する。

(2) 右の写真に関する問いに答えなさい。

問1 写真の人物がおこなっている、手をつかって情報を伝えることを何といいますか。正しいものをA～Eから1つ選び記号で答えなさい。

- ア 点字 イ ユニバーサルデザイン
- ウ 手話 エ 論語



問2 写真の人物は、なぜ手をつかって情報を伝えているのでしょうか。その理由をかんとんに説明しなさい。

(3) 情報を得たり、伝えたりするしくみは、日に日に発達しています。たとえばテレビは、2011年に地上デジタル放送に切り替わります。テレビの地上デジタル放送の良い点の説明として、適当でないものをA～Eから1つ選び記号で答えなさい。

- ア 数百ものチャンネルの中から、見たい番組を選ぶことができる。
- イ ATMにつないで、キャッシュカードのかわりにすることができる。
- ウ みだれのない、高い画質の映像が見られる。
- エ テレビに電話回線をつないで、番組に参加することができる。

(4) インターネットを利用して情報を発信するとき、わたしたちには注意しなくてはならない点があります。その注意点として、適当でないものをA～Eから1つ選び記号で答えなさい。

- ア 他の人に著作権があるものを、無断でつかっていないか。
- イ 個人の名前や連絡先などの情報を、無断でつかっていないか。
- ウ 受信する人が混乱しないように、情報の出所を明らかにしているか。
- エ ホームページを作成するときにかかった費用を、自分の氏名といっしょに明らかにしているか。

3 次の問題は、日本の歴史に関する問題です。

(1) 次の短文A～Dを読んで、問いに答えなさい。

A：室町幕府の3代将軍〔 i 〕は、京都の北山に3層の金閣を建てました。このころ、たたみや障子、ふすまなどを使った書院造という建築様式が完成しました。

B：〔 ii 〕天皇は、世の中の混乱をしずめるため、仏教の力をかりることを考えました。そこで、地方ごとに国分寺をおくことを命じ、都には大仏をつくることにしました。

C：貴族がはなやかな暮らしを送っていたこのころ、日本独特の文化が生まれ出されました。清少納言の『枕草子』や、〔 iii 〕の『源氏物語』はかな文字で書かれた代表的な作品です。

D：政府の改革が行われていく中で、不満をもつ士族を集めて〔 iv 〕が西南戦争をおこしました。一方、板垣退助らは、国民の政治参加を求める自由民権運動をおこしました。

問1 文中の空らんにあてはまる人物をそれぞれ答えなさい。

問2 右の絵①は、短文Aのころの村を描いたものです。


この絵①の説明として、ふさわしいものをア～エから1つ選び記号で答えなさい。

ア この絵は、村人が道路工事をおこなっているところを描いたものである。

イ この絵は、村人が田植えをおこなっているところを描いたものである。


ウ 絵の右上に描かれている人々は、幕府の役人たちで、村人に命令をしている。

エ 絵の右上に描かれている人々は、山賊や海賊の者たちで、村人の作業をぼうがいている。



絵①

問3 右の写真②は、短文Bのころ、取りしまりにあいながらも、人々に仏教を広め、のちに大仏づくりに協力した僧の像です。この人物の名をア～エから1つ選び記号で答えなさい。



写真②

ア 行基 イ 鑑真 ウ 玄奘 エ 沢庵

問4 短文Cの時代の政治に関する文のうち、ふさわしいものをア～エから1つ選び記号で答えなさい。

ア 平安京では、天皇とのつながりを深めた藤原道長が、天皇にかわって政治を動かすほど権力をつよめた。

イ 織田信長が幕府をほろぼして、天下統一をすすめ、琵琶湖の近くに安土城を築いた。

ウ 江戸にいた徳川家光は、参勤交代の制度を定め、大名は1年おきに江戸と藩を行き来することを命じた。

エ アメリカ合衆国のペリーが、軍艦4隻をひきいて浦賀おきに現れ、日本の開国を求めた。

問5 短文Dの時代に開かれた帝国議会についての説明として、適当でないものをア～エから1つ選び記号で答えなさい。

ア 帝国議会は、貴族院と衆議院の二院制であった。

イ 貴族院議員は、皇族や華族などから選ばれた。

ウ 選挙の時、投票用紙に名前と住所を書く記名投票であった。

エ 選挙権をもつ人の割合は、国民全体の90%以上であった。

問6 短文A～Dを時代の古い順に並べ替えなさい。

問7 下の絵③は、イギリス船ノルマントン号のちんぼつのようなすを描いたものです。この事件では、船に乗っていた日本人乗客全員が水死したにもかかわらず、イギリス人であった船長は、軽い罰を受けただけでした。なぜ、この船長は軽い罰ですんだのでしょうか。その理由として、ふさわしいものをア～エから1つ選び記号で答えなさい。


ア 当時、日本がイギリスに所得税などの税金を支払っていたから。

イ 当時、イギリスが国際連合の常任理事国であったから。

ウ 当時、日本にいる外国人が罪をおかしても、日本の法律で裁くことができなかったから。

エ 当時、日本で消費される食糧のほとんどをイギリスから輸入していたから。

問8 下の絵③の事件がおこったのは、短文A～Dのどの時期に一番近いですか。A～Dの記号で答えなさい。




絵③

(2) 写真を見て、それぞれの問いに答えなさい。

問1 この写真の説明として、ふさわしいものをア～エから一つ選び記号で答えなさい。

- ア これは、日本軍が真珠湾のアメリカ艦隊を攻撃した時の写真である。
- イ これは、日本の貿易船が、海上で火災にあった時の写真である。
- ウ これは、日本の石油会社が、海底から石油を掘りおこしている写真である。
- エ これは、日本政府が大規模な道路工事をおこなっている写真である。



問2 この写真はどこの都市を撮影したものでしょうか。正しいものをア～エから一つ選び記号で答えなさい。

- ア 長崎
- イ 東京
- ウ 福岡
- エ 広島



問3 この写真の説明として、ふさわしいものをア～エから一つ選び記号で答えなさい。

- ア 戦争で品物が少なくなったため、ぜいたくをしないようよびかけている。
- イ 関東で大震災がおり、ボランティアの参加をよびかけている。
- ウ これは、高度経済成長期の写真で、国民にうかれず、しっかり働くようよびかけている。
- エ バブル経済が崩れ、不景気となったため、生活をおさえるようよびかけている。




問4 この写真は、はじめて女性にある権利がみとめられ、女性たちがそれを行なっているところです。次のうち、女性たちが行なっていることとして、ふさわしいものをア～エから一つ選び記号で答えなさい。

- ア 選挙権がみとめられ、投票を行なっている。
- イ 裁判権がみとめられ、判決を行なっている。
- ウ 労働権がみとめられ、就職活動を行なっている。
- エ 教育権がみとめられ、授業を受けている。



問5 この写真は、1951年アメリカのサンフランシスコで開かれた平和会議で、日本の首相が平和条約を結んでいるところです。この会議よりも後におきたできごととして、適当でないものをア～エから一つ選び記号で答えなさい。

- ア 日本の国際連合の加入がみとめられる。
- イ 東京でオリンピックが開かれる。
- ウ 南満州鉄道を爆破し、満州事変が始まる。
- エ 東海道新幹線が開通する。



4 次の問題は、2008年7・8月の出来事に関する問題です。

昨年7月に日本の〔あ〕に先進国の首脳しゅのうが集まりサミットかいさいが開催されました。このサミットでは、① 地球環境問題や食糧問題などについて話し合われました。

また、昨年8月には中国の首都〔い〕で② オリンピックが開催されました。このオリンピックは、平和の祭典ともいわれますが、それは古代ギリシア世界で4年に1度、オリンポスの地に各地から集まり様々な競技が行われ、その時には戦争をしないというルールがあったことに由来します。しかし、昨年のオリンピックの時、グルジアに対して大国である〔う〕が軍事介入をするという事件がありました。このことに対し、国際社会は批判ひはんしました。

問1 〔あ〕の都道府県名を答え、さらに地図でその都道府県の位置をぬりなさい。

問2 〔い〕に入る中国の首都名を答えなさい。

問3 〔う〕に入る国名を次のア～エから1つ選び記号で答えなさい。

ア アメリカ イ 中国 ウ オーストラリア エ ロシア

問4 下線部①に関して、次の4人の地球環境問題に対する取り組みのうち、明らかに誤っているものを1人選び、名前を答えなさい。

あやこさん：わたしは買い物にエコバッグを持って行って、レジ袋をもらわないようにしている。

だいすけ君ぼく：僕は暑がりだけど、夏にはできる限り冷房を使わずに、窓を開けたり薄着うすぎをしたりして暑さ対策をしている。

かおりさん：私はお花に水をやる時、水道水をできる限り使わずに、ためておいた雨水を利用するようにしている。

かずや君：冷房の設定温度を下げ窓を開けて、その冷たい空気を利用して地球温暖化を食い止めようとしている。

問5 下線部②に関して、次の表は今年のオリンピックの上位を示したものです。

順位	国名	金	銀	銅
1位	中国	51	21	28
2位	アメリカ合衆国	36	38	36
3位	ロシア	23	21	28
4位	イギリス	19	13	15
5位	ドイツ	16	10	15

オリンピックの表彰式では、金・銀・銅メダルを獲得した選手の国の国旗がかかげられます。次の国旗のうち、この上位5カ国のものではないものを次のア～オから選び記号で答えなさい。


ア




イ




ウ



エ



オ



1	問1		問2	
	(1)	問3		
	(2)	問1		問2

2	(1)	→ → → →			
	(2)	問1			
		問2			
	(3)		(4)		

3	(1)	問1	i		ii	
			iii		iv	
		問2			問3	
		問4			問5	
		問6	→ → →			
		問7			問8	
(2)		問1			問2	
		問3			問4	
		問5				

4	都道府県名				
	問1	<p>右の地図で、その都道府県の場所をぬりつぶしなさい。</p> 			
	問2			問3	
	問4			問5	

平成二十一年度
入試問題解答用紙

社会

九州国際大学
付属中学校

受験番号

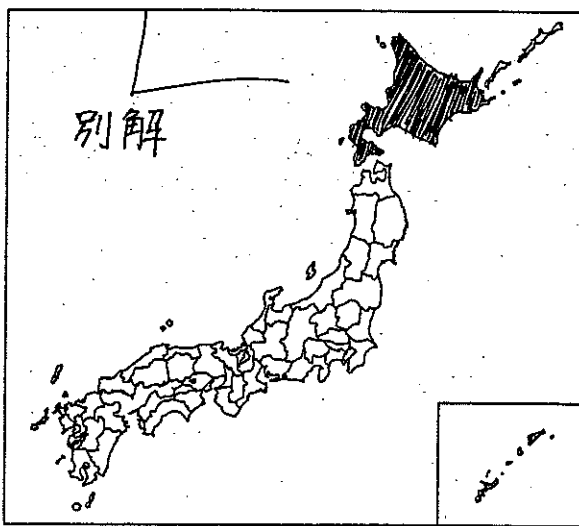
氏名

得点

1	問1	約40%	問2	エ
	問3	北方領土が日本の領土でなければ、その海岸線からの200海里の海域では日本は漁業ができなくなってしまうから。		
(2)	問1	ウ	問2	ウ

2	(1)	C → A → E → D → B		
	問1	ウ		
(2)	問2	耳か不自由な人へも伝えよため		
(3)	問1	イ	(4)	エ

3	問1	i	足利義満	ii	聖武
		iii	紫式部	iv	西郷隆盛
(1)	問2	イ		問3	ア
	問4	ア		問5	エ
	問6	B → C → A → D			
	問7	ウ		問8	D
(2)	問1	ア		問2	エ
	問3	ア		問4	ア
	問5	ウ			

4	都道府県名	北海道			
	問1	右の地図で、その都道府県の場所をぬりつぶしなさい。 			
問2	北京(10キム)	問3	エ		
問4	かがや君	問5	イ		

平成二十一年度
入試問題解答用紙

社会

九州国際大学
付属中学校

受験番号

氏名

得点